

	FREE FINAL EXAMINATIONS	A
X CLASS – SOCIAL STUDIES		
Time : 3.15 Hours]	Paper I & II	[Max. Marks : 100

సూచనలు:-

1. జవాబులు రాయడానికి కేటాయించిన మూడు గంటల సమయమునకు అదనంగా ప్రశ్నాపత్రం చదువుకోవడానికి 15 నిమిషాల సమయం ఇవ్వబడినది.
2. అన్ని జవాబులను విడిగా ఇచ్చిన జవాబుల పుస్తకమునందే రాయవలెను.
3. ప్రశ్నాపత్రము నందు నాలుగు విభాగములు ఉన్నాయి.
4. నాలుగో విభాగమునందు అంతర్గత ఎంపిక (ఇంటర్నల్ ఛాయిస్) కు అవకాశం ఉంది.

SECTION - I

Note :

1. ఈ విభాగం నందు ఏమైనా ప్రశ్నకు ఒకటి కంటే ఎక్కువ మార్లు జవాబులు రాసినట్లయితే, మొదటగా రాసిన జవాబులు మాత్రమే పరిగణనలోకి తీసుకోబడుతుంది.
2. అన్ని ప్రశ్నలకు జవాబులు రాయండి.
3. ప్రతి ప్రశ్నకు 1 మార్కు 12 × 1 = 12

1. హిమాలయాలలోని ఏవైనా రెండు వేనవి విడుదులను రాయండి.
2. తప్పుగా జతపరిచిన జతను గుర్తించి సమాధాన పత్రములో రాయండి.

ఎ. జమ్ము కొండలు - జమ్ము కాశ్మీర్	బి. మిప్పి కొండలు - అరుణాచల్ ప్రదేశ్
సి. కచార్ - అసోం	డి. పాట్కాయ్ - ఉత్తర ప్రదేశ్
3. నానాజాతి సమితి రూపశిల్పి ఎవరు?
4. క్రింది వాక్యాలలో తప్పుగా ఉన్న దానిని సమాధాన పత్రములో రాయండి.

ఎ. భారతదేశంలో ఆడ శిశువుల జననం 103 ఉండగా, మగ శిశువుల జననం 100 గా ఉంది.
బి. బాలురులతో పోల్చినపుడు బాలికలకు విద్య, అభివృద్ధిలో సమాన అవకాశాలు లేవు.
సి. పోషకాహారం, ఆరోగ్యం విషయాలలో బాలురు, బాలికల మధ్య వివక్షత కనబడుతున్నది.
డి. 0-5 సంవత్సరాల మధ్య వయస్సు పిల్లలలో బాలురకంటే బాలికలకే జీవించి ఉండటానికి అవకాశాలు ఎక్కువ.
5. సరైన దానిని గుర్తించి రాయండి.

1. డబ్ల్యు.టి.ఓ. అనగా - ప్రపంచ ఆరోగ్య సంస్థ	2. ఇది విదేశీ వర్తకంపై ఆంక్షలు విధిస్తుంది.
(ఎ) రెండూ సరైనవి. (బి) రెండూ సరైనవి కావు. (సి). 1 మాత్రమే సరైనది (డి). 2 మాత్రమే సరైనది.	
6. నవంబర్ 26, 1949 యొక్క ప్రత్యేకతను గుర్తించండి.

ఎ. భారత రాజ్యాంగం అమలులోకి వచ్చినది
బి. భారతదేశానికి స్వాతంత్ర్యం వచ్చినది.
సి. రాజ్యాంగ ముసాయిదా కమిటీ ఏర్పాటైనది.
7. C.C.P.ని విస్తరించి రాయండి.
8. నర్మదానది - అమరకంటక్ :: కావేరి నది -

9. ప్రక్క చిత్రం ఏ ఉద్యమానికి సంబంధించినది.

8. త్రైపాక్షిక కూటమికి సంబంధించి సరికానిది ఏది?

జర్నలీ, ప్రాన్స్, ఆస్టియా, ఇటలీ

9. ఈ క్రింది పేరాను చదివి ఇచ్చిన ప్రశ్నకు సమాధానం రాయండి.

ఫలితంగా 1948, ఫిబ్రవరి 14 న అఖిల భారత హిందూ మహాసభ 'రాజకీయ కార్యక్రమాన్ని త్యజించి నిజమైన సంస్థాగత పనిమీద దృష్టి కేంద్రీకరించాలని' నిర్ణయించింది. ఒక రంకంగా తీవ్రవాద గాఢ్ అంతిమంగా తన మిత్రులకు, ఎంచుకున్న పంథాకి హాని కలిగించాడు.



ప్రశ్న : హిందూ మహాసభ తన కార్యక్రమాలు మార్చుకోవడానికి దారితీసిన సంఘటన ఏది?

SECTION - II

Note : 1. అన్ని ప్రశ్నలకు సమాధానాలు రాయండి.

2. ప్రతి ప్రశ్నకు రెండు మార్కులు

13. భారతదేశ ప్రధాన భౌగోళిక విభజనలు ఏవి?

14. అడవుల నిర్మూలన భారతదేశంలోని అన్ని ప్రాంతాలలో జరుగుతున్నది. అడవుల క్షీణతను తగ్గించడానికి ఏవైనా రెండు సూచనలు చేయండి.

15. క్రింది వాటిని జతపరచండి.

- | | |
|----------------------|------------------------|
| 1. గౌవో తెగవారు | ఎ). డి.డి.టి. పిచికారీ |
| 2. మస్నాయి యోధులు | బి). కెన్యా |
| 3. కియాంగ్ గిరిజనులు | సి). దక్షిణ అమెరికా |
| 4. రాచెల్ కార్నన్ | డి). టిబెట్ |

16. చిత్రాలను గమనించి ఇచ్చిన ప్రశ్నలకు సమాధానాలు రాయండి.



1. ఈ రెండు చిత్రాలు ఏమి తెలియజేస్తున్నాయి?
2. ఈ చిత్రాలు ఏ దేశంలో ప్రచురితమయ్యాయి?

17. SPIC మరియు CPIC లను విస్తరించి రాయండి.

18. ఏక పార్టీ మరియు బహుళ పార్టీ విధానాల మధ్య గల తేడా ఏమిటి?

19. క్రింద కనబరిచిన రాజకీయ పార్టీలలో రాష్ట్ర స్థాయి మరియు జాతీయ పార్టీలను గుర్తించి పట్టిక రూపంలో రాయండి.

BJP, YSRCP, TDP, CPM, CPI, DMK, కాంగ్రెస్, AGP

జాతీయ పార్టీలు	రాష్ట్ర స్థాయి పార్టీలు

20. ప్రపంచ శాంతిని కోరుతూ ఏవైనా రెండు నినాదాలు రాయండి.

SECTION - III

Note : 1. అన్ని ప్రశ్నలకు సమాధానాలు రాయండి. 2. ప్రతి ప్రశ్నకు నాలుగు మార్కులు

21. ప్రజలు సాధారణంగా అసంఘటిత రంగంలో పనిచేయడానికి ఇష్టపడరు. కారణమేమి?

22. విశాఖ పట్టణంలో జనాభా పెరుగుదలకు గల కారణం ఏమిటి?
 23. ఇచ్చిన సమాచారం ఆధారంగా పై చిత్రాన్ని గీచి, మీరు ఏమి గమనించారో రాయండి.

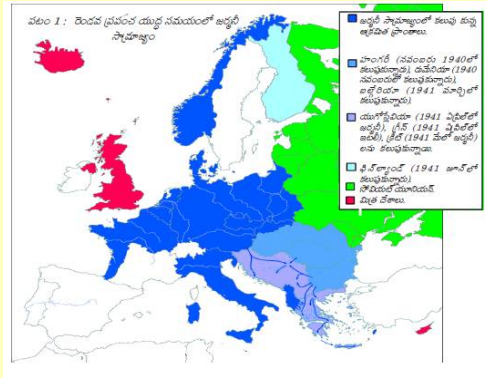
రైతుల రకాలు	సాగు చేస్తున్న భూమి శాతం
చిన్న రైతులు	48%
మధ్య తరగతి, చిన్న రైతులు	52%

24. కాలపట్టికను గమనించి, ఇచ్చిన ప్రశ్నలకు సమాధానాలు రాయండి.

జర్మనీ పోలెండ్ పై దాడి చేయుట, రెండవ ప్రపంచ యుద్ధం ప్రారంభం	సెప్టెంబర్ 1, 1939
జర్మనీ యు.ఎస్.ఎస్.ఆర్. పై దాడి	జూన్ 22, 1941

- (ఎ). రెండవ ప్రపంచ యుద్ధానికి గల తక్షణ కారణం ఏమిటి?
 (బి). రెండవ ప్రపంచ యుద్ధ కాలంలో జర్మనీ యుఎస్ఎస్ఆర్ పై గొప్ప దాడి చేసింది. అది ఎప్పుడు?

25. భారత రాజ్యాంగం యొక్క ముఖ్య లక్షణాలను రాయండి.
 26. “సంకీర్ణ ప్రభుత్వాలు రాజకీయ అస్థిరతకు దారితీస్తాయి”. దీనిపై వ్యాఖ్యానించండి.
 27. నామ్ (NAM) అనగానేమి? దాని ముఖ్య లక్ష్యాలు ఏమిటి?
 28. మ్యాప్ ను గమనించి ఇచ్చిన ప్రశ్నలకు సమాధానాలు రాయండి.



1. నల్ల సముద్రానికి సమీపంలోని అక్ష రాజ్యాలు ఏవి?
2. నార్వేకి తూర్పున గల దేశం ఏది?

SECTION - IV

Note : 1. అన్ని ప్రశ్నలకు సమాధానాలు రాయండి. 2. ప్రతి ప్రశ్నకు 8 మార్కులు. 5 × 8 = 40

29. (ఎ). “హిమాలయాలు ఉండటం భారతదేశానికి ఒక వరం.” దీనిని సమర్థిస్తూ కొన్ని వాక్యాలు రాయండి.
 (లేదా)

“భారతదేశ వ్యవసాయం ఋతుపవనాలపై పూర్తిగా ఆధారపడి ఉంది.” ఋతుపవనాల చక్రాన్ని వివరించండి.

30. భారతదేశంలో చేపట్టిన భూసంస్కరణలను చైనాలో చేపట్టిన భూసంస్కరణలతో పోల్చండి.
 (లేదా)

సామాజిక ఉద్యమాల మౌఖిక అంశాలు ఏవి?

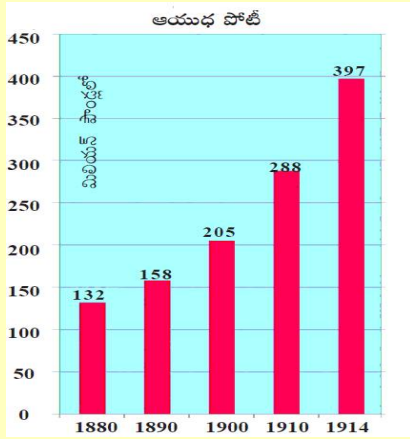
31. (ఎ). “వలస కార్మికుల పిల్లలలో చాలామంది మధ్యలోనే బడి మానేస్తున్నారు.” దీనిపై మీ అభిప్రాయాన్ని రాయండి.
 (లేదా)

క్రింది పేరాను చదివి ఇచ్చిన ప్రశ్నకు సమాధానం రాయండి.

భారతదేశంలో చాలా మంది దంపతులు ఆడ పిల్లకంటే మగ పిల్లలు కావాలనుకోవడం భారతదేశంలో లింగ వివక్షను తెలియజేస్తున్నది. ఇది చాలా ఆందోళన కలిగించే అంశం. ఇటువంటి పురుషాధిక్య సమాజంలో మగ శిశువుల మరణాల కంటే ఆడ శిశువుల మరణాలు ఎక్కువగా ఉంది. చాలా కుటుంబాలు ఆడపిల్లలు పుట్టండం అనేది ఒక భారంగా భావిస్తున్నారు. మహిళల విద్య అనేది లింగ వివక్షతను తగ్గించడానికి ఒక అయుధంగా పనిచేస్తుంది.

ప్రశ్న: లింగ నిష్పత్తి ఉన్న తేడా సమాజంపై ఎటువంటి ప్రభావాన్ని చూపుతుంది?

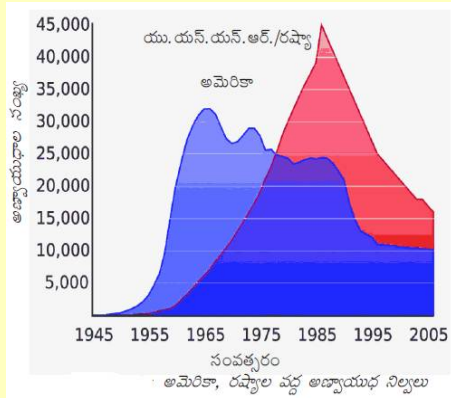
32. (ఎ) గ్రాఫ్ను పరిశీలించి ఇచ్చిన ప్రశ్నలకు సమాధానాలు రాయండి.



1. 1914లో ప్రధాన శక్తులు ఆయుధాల కోసం చేసిన ఖర్చు ఎంత?
2. త్రైపాక్షిక కూటమిలోని దేశాలు ఏవి?
3. త్రైపాక్షిక ఒప్పందం కుదుర్చుకున్న దేశాలు ఏవి?
4. 1880-1914 మధ్య ఆయుధాల మీద ఖర్చు ఎంత?

(లేదా)

(బి). చిత్రాన్ని గమనించి ఇచ్చిన ప్రశ్నలకు సమాధానాలు రాయండి.



1. 1955-1975 మధ్య ఏ దేశం వద్ద అణ్వాయుధ నిల్వలు ఎక్కుగా ఉన్నవి?
2. 1965లో అమెరికా వద్ద ఎన్ని అణ్వాయుధాలు ఉన్నాయి?
3. రెండవ ప్రపంచ యుద్ధం తర్వాత ప్రపంచం రెండు కూటమిలుగా ఏర్పడడానికి కారణం ఏమి?
4. 1990 తర్వాత అణ్వాయుధాల నిల్వలు తగ్గిపోవడానికి కారణాలు ఏమి?

33. (ఎ) భారతదేశ పటంలో క్రింది వాటిని గుర్తించండి.

1. హిమాచల్ ప్రదేశ్ రాజధాని
2. భారతదేశంలో ఎత్తైన శిఖరం
3. అరుణాచల్ ప్రదేశ్లోని కొండలు
4. ఖనిజ వనరులు ఎక్కువగా గల పీఠభూమి

(లేదా)

(బి) ప్రపంచ పటంలో క్రింది వాటిని గుర్తించండి.

1. ప్రపంచంలో వరిని ఎక్కువగా ఉత్పత్తి చేసే దేశాలలో మూడవది.
2. ప్రజలు “కోలన్స్” అని పిలువబడే దేశం
3. మంచూ వంశస్థులు పరిపాలించిన దేశం
4. యూరోబా తెగ వారు నివసిస్తున్న దేశం

PREFINAL - A

SOCIAL STUDIES

సంబంధాలు

SECTION-I

1. హిమాలయ వేసవి విడుదలకు ఏవైనా రెండు దినాల్లో
2. హిమాలయ వేసవి విడుదలకు దినాల్లో:
 - అ) సిమ్లా
 - బి) మన్సూరి
 - సి) సియాక్
 - డి) సైనాబుల్
3. క్రింది వాటిలో తప్పుగా సత్యం చెప్పినది ఏది?
 - అ) బిమ్లా కొండలు - బిమ్లా & కాల్షిర్
 - బి) మిమ్లా కొండలు - కుమారాచల్ ప్రదేశ్
 - సి) కొల్హార్ - ఉత్తర
 - డి) పాట్కాయ్ - దత్తర ప్రదేశ్
4. కలహాస్థాన రాజ్యం ఏవారు?
 - అ) జిమ్సల్ లాల్ శోమ
5. క్రింది వాక్యాలలో సరికొంది ఏది?
 - అ) భారత దేశంలో కనీసం 100 మంది మగపిల్లలకు, 103 మంది ఆడపిల్లలు పుడుతున్నారు.
 - బి) విద్యుత్తును, కృత్రిమంగా, మగపిల్లల ఆడపిల్లల సమంవతి అవకాశాలను పొందడం తొందర.
 - సి) పాట్కాయ్ మర్యాద కలిగిన వాళ్ళు అంటే మగపిల్లలు, ఆడపిల్లల మధ్య అవ్యత ఏదీ.
 - డి) 0-5 సం॥ వయస్సు గల వారిలో ఆడపిల్లల కన్నా, మగపిల్లల తక్కువగా పుడుతున్నారు.
6. AD
7. క్రింది వాటిలో సరైన వాక్యాన్ని గుర్తించండి.

- 1) WTO తీమా ప్రపంచ వాణిజ్య సంస్థ
 2) వసోక వాణిజ్యం జరి నియంత్రితమి.
 3) అ) రెండు సరైనవి బ) రెండు సరైనవి కావు
 4) 1. మూత్రం సరైనది 2. మూత్రం సరైనది.

3) 'ల'సి'

6. నవంబరు 26, 1949 యొక్క ప్రాముఖ్యత (పైన వాటి అనుబంధాలు)

- * రాజ్యాంగ తమలు
- * భారతదేశ స్వాతంత్ర్యం
- * రాజ్యాంగ ఆమోదం
- * బ్రాహ్మిన్ కమిటీ నిర్ణయం
- * రాజ్యాంగ ఆమోదం

7. C.C.P ను అనుబంధం.

8. శ్రీమతి కమలానిధి పార్టీ

9. నగ్నత : తమకడకే :: కావేరి : ?

10. బ్రిష్టిష్ కండులు

11. ప్రకృతి మరియు వాతావరణం ఏ ద్వారా సంబంధించినది?

12. నగ్నత బహుళ ఆంధ్రం

13. బ్రిష్టిష్ కండులు కి సంబంధం తెలియజేసి?

14. బ్రిష్టిష్, ప్రాన్స్, బ్రిష్టిష్, ఇటలీ

15. ప్రాన్స్

16. బ్రిష్టిష్ వారసులు ఏ ద్వారా తెలుసుకోవచ్చు.

17. రోజ్ బ్యాంక్

18. కేంద్ర పరిశోధనా సంస్థ, ప్రకృతి సమన్వయనానికి.

ఫలితంగా 1948 ఫిబ్రవరి 14వ తారీఖు భారత యొక్క మొదటి రాజ్యాంగం కార్యక్రమం ప్రారంభం అయ్యింది. 16. 19వ వ్యవస్థ కేంద్రపాలనా వ్యవస్థ. ఈ రకంగా

అవినాద గాఢే అంతేమంసా తన విశేషము, మునుకున్న
 పంథా కి మాత్రం కలసింబుడు.

ప్ర: సింధు మహా సభ జలాయు నిర్ణయం అనుకూలంగా
 కారణం ఏమిటి?

జ. సింధు మహా సభలో సభ్యుడైన అవినాద గాఢే
 గాఢజీవి పత్రికను ప్రచురించారు.

SECTION - II

13. భారత దేశ ప్రధాన శాఖలైన స్వరూపాలను వ్రాయుము.

- | | |
|--------------------------|-----------------------|
| జ. ఎ) సిమెంటులు | బి) గంగా-సింధు యుద్ధం |
| సి) విద్యుత్ బల వినియోగం | డి) ఆర్యునియం |
| ఇ) విద్యుత్ | ఎఫ్) విద్యుత్ |

14. భారత దేశం లోని కృష్ణ ప్రాంతాలను కేవల నిర్జల
 ప్రాంతం. కేవల నిర్జలను కేవలంగా పేర్కొనండి.
 మూడు సూచించండి.

- జ. 1. ఆంధ్ర నది ప్రాంతం కేవలం
 2. WALTA చుట్టూ సమగ్రమంతుగా కేవలం.

15. List A మరియు List B లలో కలిపి వ్రాయండి.

కేవలం వ్రాయండి.
List A

List B

- | | |
|-------------------|------------------|
| 1. గాఢ | ఎ) DDT చుట్టూ |
| 2. మసాబ్ | బి) కెనా |
| 3. క్షాంబి | సి) దక్షిణ ఆసియా |
| 4. లాబెల్ కార్బన్ | డి) బాబెల్ |

జ. i-c, 2-b, 3-d, 4-a

16. పరిశీలించి జవాబును వ్రాయండి.

- a) పై రెండు బిల్లులు ఏం చెప్పినాయి?
 బ. ఆ యుద్ధం శిబ్బులో కుడుకున్నది మరియు ఎంతో మంది ప్రజల జీవితాలను ప్రభువలన చేసింది.
 b) ఏ సేకరణ ఇది ముఖ్యమంత్రి ప్రచారం బిల్లు?
 బ) ఆ సేకరణ U.S.A

- 17) SPIC మరియు CPIC తేడా తెలుసా?
 బ. SPIC : ఐదేళ్ల ప్రజా సమగ్రత కమిషన్
 CPIC : పేదల " " " "

- 18) ఏక పార్టీ మరియు బహుళ పార్టీ వ్యవస్థలకు గల తేడా తెలుసా?
 బ. 1- ఏక పార్టీ వ్యవస్థ - సకే పార్టీ ఉంది, పరిపాలనాది.
 2. బహుళ పార్టీ వ్యవస్థ - చాలా పార్టీలు ఉంటే, ఒక్కొక్కరినీ పాలనాలో ఉంచుతారు.
 19. కింది రాజకీయ పార్టీలను, జాతీయ మరియు ప్రాంతీయ పార్టీలుగా విభజించండి, పట్టికను తయారు చేయండి.
 "BJP, YSP - CP, TDP, CPM, CPI, DMK, కాంగ్రెస్, AGP".

జాతీయ పార్టీలు	ప్రాంతీయ పార్టీలు

బ.

వ.సం	జాతీయ పార్టీలు	ప్రాంతీయ పార్టీలు
1.	జాతీయ ప్రజాతా పార్టీ	DMK
2.	కాంగ్రెస్ - 2	TDP
3.	CPI	AGP
4.	CPM	YSRCP

ప్రపంచ జాతీయ సంపాదించుటకు రెండు ఏడాదలు ప్రాయం

- 2) 1. యుద్ధాల వద్దు - శాంతి మద్దు
- 2. యుద్ధం వివాదాలు - శాంతి అభివృద్ధి నాయకు

SECTION-111

21. ఆంధ్రప్రదేశ్ రాష్ట్రం పరిపాలనలో ప్రజలు సుఖముగా
 నివసించాలి. ఎందుకు?

22) 1. ఆంధ్రప్రదేశ్ రాష్ట్రం తుది భాగం ప్రభుత్వ నియంత్రణలో
 ఉండదు.

- 2. నియమ నిబంధనలు ఉండవు.
- 3. దేవులు క్రమబద్ధముగా ఉండవు.
- 4. తక్కువ పోతనాలు
- 5. సెలవులు పొందటం కష్టమవుతుంది
- 6. పోతనలకు కుడిన సెలవులు ఉండవు.
- 7. దేవులు భద్రత ఉండదు.
- 8. పని ప్రదేశాలకు పరిస్థితులు సరిగా ఉండవు.

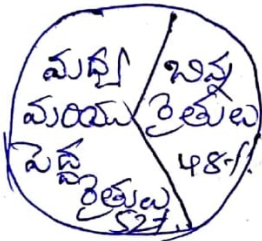
22. విశాఖపట్టణంలో బహుభాషా పుస్తకాలకు కారణాలు ఏవి?

- 23) 1. కౌన్సిల్ దళాలనుండి, విశాఖ పట్టణం బహుభాషా
 పుస్తకాలనుండి పుస్తకాలు సేవించుట ఉంది.
- 2. బహుభాషా ప్రధాన కారణం విశాఖపట్టణం నుండి పుస్తకాలు.
- 3. ఈ బహుభాషా పుస్తకాల, ఆర్థిక మరియు సామాజిక
 అవకాశాలను పుస్తకాలను సులభమవుతుంది.
- 4. పరిశ్రమలను తెలుగులో ఉంచుట
- 5. ఆంధ్రప్రదేశ్ రాష్ట్రం వివాదాలు
- 6. దేశాని మొదలైన దేశాని అవకాశాలు

23. క్రింది సమాఖ్యలపై 'పై బార్ట్' రూపం లోకి మార్చండి. మీ పరిశీలనను వ్రాయండి.

క్రితులవిధ రేఖలు	సాగు విస్తీర్ణ శాతం
చిన్న క్రితులు	48%
మధ్య మరియు పెద్ద క్రితులు	52%

2. సాగు విస్తీర్ణం



పరిశీలన: సాగు విస్తీర్ణం లోని చిన్న శాతం (52%) మధ్య మరియు పెద్ద క్రితుల అభివృద్ధికి దోహదం, అల్ప భాగం (42%) చిన్న క్రితుల అభివృద్ధికి దోహదం.

24. క్రింది కాల ప్రమాణగత భార్య ను పరిశీలించి, జనాభయల వ్రాయండి.

రెండవ ప్రపంచ యుద్ధ ప్రారంభం - జూలై 1, 1939	జర్మనీ ఆక్రమించడం
జర్మనీ USSR పై దండెత్తడం	జూన్ 22, 1941

- 1) రెండవ ప్రపంచ యుద్ధానికి తర్వాత కారణాలు
- 2) జూలై 1, 1939 జర్మనీ దండెత్తడం
- 3) USSR పై జర్మనీ దండెత్తడం నానాసం చేసింది. దీనివల్ల
- 4) 1941, జూన్ 23 వ

25. భారత రిజర్వ్ నాలుగు ముఖ్య లక్ష్యాలను వ్రాయండి.

- 1. అత్యధిక అభివృద్ధి
- 2. సాగు

2. ధృత మయు కథిత రుజ్జుగా

3. పార్శ్వమెంటరి తరహా ప్రజుష్టామ్నం

4. ఏక పౌరసత్వం 5. ఏకీకృత మయు సమూహీకృత్యాగాల

26. 'సంకీర్ణ ప్రభుత్వాల రుజ్జుయ తస్మిరతకు కారూమూలము'.
వ్యాఖ్యానించండి.

2. 1. క్రొత్తపార్టీ ప్రభుత్వం ఏర్పాటు చేయటానికి కౌమిల్లి
న్ను సిట్లను ఏ సిక్ పార్టీ సెలమకాటిక వాడు
నప్పుడు, కౌ. శివ నాగుప్పత కలగిన క్రొత్త పార్టీలు
కలసి సంకీర్ణ ప్రభుత్వాన్ని ఏర్పాటు చేశారు.

2. ఈ పార్టీలన్నీ కలసి ఏక డెమ్మడి విక్షణముగా
సిద్ధునానికి రుజ్జు డెంటుంది. కాని ఇది కఠినమైన
కౌ.

3. పోలి, భోగపార్టీల పార్టీలు వారి వారి స్వీయమిజ్జాల్లో
ప్రభుత్వంపై సిక్కిడి తెస్తారు.

4. ఈ పార్టీలు మన్దతు డెసయరించుకుంటాడెమిగినప్ప
భయంలే ప్రభుత్వం క్రొత్త ఎనావ నర్తకులను
తొనకాటిక వాతుంది. వారిలో ప్రభుత్వం తస్మిరపడుతుంది.

కేవలినా సంకీర్ణ ప్రభుత్వాల తరహా కనిపించే 'ఎనావ
వక్షణముతం' అంటారు.

27. NAM తనగా నామ? దాని ప్రధాన లక్ష్యాలే?

2. 1. ఆ కెండు బలమైన అధికార క్రొత్తములైన అమెరికా
మయు రూర్ష క్రొత్తములలో వేనిలనగా చేరకవచ్చును.

2. తొడింట్లో సమూహ దురయ డెంటు, స్వతంత్రంగా
ప్రవహించుట

లక్ష్యాలు:

1. ప్రసంగ కాలేని పరిరక్షించుట

2. సభ్యతకాలలో సహకారాన్ని పెంచుచుండుట

3. క్రొత్తగా స్వచ్ఛతంత్వం పొందిన వజ్రం సకలతీనా

4. ఏ సేవకు కృతజ్ఞులుగా చూడటం చూడటం

58. పట్టణం చూసి, భావించు (అయితే).

అ) నల్లసముద్రానికి దగ్గరగా ఉన్న కృష్ణానది

బ) నార్సేకు ఉత్పన్నమైన గల సేకం

2. అ) టెర్రా బ) స్ట్రోమన్

SECTION - IV

29. అ) "మన సకలకాంక్షలను సమర్థించు" తన

బి. 1. సమర్థించు అనిర్వచనీయం, శాంతిని సృష్టించి తనకు
కాదుగా ప్రభుత్వం చేస్తాంది

2. శాంతిని సృష్టించి మనకు ఆనందంనుంది వాటి కంటే
శాంతిని సృష్టించి మనకు ఆనందంనుంది వాటి కంటే
కాదుగా ప్రభుత్వం చేస్తాంది

3. వాటిని కంటే మించి, మనకు సమర్థించు అనిర్వచనీయం
సమర్థించు అనిర్వచనీయం

4. సమర్థించు అనిర్వచనీయం మనకు సమర్థించు అనిర్వచనీయం
సమర్థించు అనిర్వచనీయం

5. ఈ వాటిని సమర్థించు అనిర్వచనీయం సమర్థించు అనిర్వచనీయం
సమర్థించు అనిర్వచనీయం

6. ప్రభుత్వం వాటిని సమర్థించు అనిర్వచనీయం సమర్థించు అనిర్వచనీయం
సమర్థించు అనిర్వచనీయం

- 7. ఈ లోయలు పత్తా అంటుంటు ప్రసిద్ధి.
- 8. నాగార్జున, సంస్కృతులు నారధుల్ని పనిచేసే క్రమములు సామలయాలకు ఉన్నాయి.

(లేనా)

- b) 'భారత సోషల్ వ్యవసాయం మొత్తం సుతూపవనాలపై ఆధారపడి ఉంది'. సుతూపవన వ్యవస్థను వివరించండి.
- జ. 1. భారత సోషల్ శాస్త్రాన్ని సృష్టించిన సుతూపవనాల వలన ఎంతగానూ ప్రభుత్వం ప్రభావించబడింది.
- 2. మనకు ఉష్ణమండల సుతూపవన శాస్త్రాన్ని సృష్టించింది.
- 3. మన ఆర్థిక వ్యవస్థ ప్రభావంగా వ్యవసాయాధారితమైంది.
- 4. మన వ్యవసాయం ప్రభావంగా పట్టణాధారం
- 5. ఈ వర్షపాతం సుతూపవనాలపై ఆధారపడి ఉంది.
- 6. జి.ఎ.ఎ. కాలం నవంబర్, డిసెంబర్ పేర భూమిలో సుతూపవనం రంభం జరుగుతుంది. ఇది మునుపటి పండ్లు పట్టణాధారం గా మారింది నేడు పడుతుంది.
- 7. మూన్ మరియు సెప్టెంబర్ మధ్య కాలం, సైబులే సుతూపవనాల క్రమంగా ఇక్కడ మరియు బంగాళాఖాతం ఇక్కడగా వస్తాయి.
- 8. సైబులే సుతూపవన కాలం శిశివే పంటలను పండిస్తారు. దీని వలన
- 9. ఉష్ణమండల నుండి తడిగాలి వలన ఈ ఇప్పుడు సుతూపవనం కాలం. ఈ కాలం ఉష్ణమండల విస్తృత భూమి వలన తగ్గిస్తుంది.
- 10. ఈ కాలం రమ్య పంటలు పండిస్తారు.
- 11. ఈ కాలం వలన భారత సోషల్ వ్యవసాయం మొత్తం సుతూపవనం పై ఆధారపడి ఉంది.

30. చైనా మరియు భారతదేశాలలో తమ పతన భూ సంస్కరణలను పోల్చండి.

భారతదేశం	చైనా
<p>1) ప్రధాన మంత్రి జవహర్లాల్ నెహ్రూ మాడుకలైన భూ సంస్కరణలను తమల పరిచారు.</p> <p>2) ఈ మాడుకలు a) బహింనాళి వ్యవస్థ రద్దు b) కౌలు సంస్కరణలు c) భూ సరిష్ట పరిమితి</p> <p>3) భూ సంస్కరణలు తమల ద్వారా</p> <p>4) బహింనాళి వ్యవస్థను రద్దు పరిచారు. భూమి లోని రైతులకు భూ హక్కు ఇవ్వడం జరిగింది.</p>	<p>1) 1946 లో చైనా కమ్యూనిస్టు పార్టీ భూ సంస్కరణలను ప్రారంభించాయి.</p> <p>2) భూమిల మరియు జతర ఆస్తులు, వేదనాలో పంచబడ్డాయి.</p> <p>3) నాలుగు సంవత్సరాలలో తమల పరిచారు.</p> <p>4) రైతులకు ఎంతమంది భూస్వామిలను గంపబడ్డారు. 1950 తరువాత రైతుల హక్కులు వర్ధిల్లి, భూమిని పంచబడ్డాయి.</p>

(లేదా)

- b) సామూహిక దేవుల ప్రధాన లక్షణాలతో
- ఖ) సామూహిక ప్రజల కౌసం ఒక మంచి సామూహిక మార్గం తొత్తి బలమైన మార్గం సామూహిక దేవులు
2. జరిగి న్యాయం, ప్రజాస్వామ్యం, పౌర మరియు మానవ హక్కులపై ఆధారపడి ఉంటాయి.
 3. ఈ దేవులు తమనా యంతంగా ఉంటాయి.
 4. ఏంనా పద్ధతులు పార్టీ వారి ఆధునికీకరణలు
 5. సామూహిక దేవులు సమూహం ఏమక బడిన వారి ఆభివృద్ధి కార్యక్రమాలు.

6. ప్రజాస్వామ్యం ప్రజల ప్రభుత్వం కరువవుతుంది, క్షిణి వర్షాల సమస్యలను పరిష్కరించటంలో ఇది నిర్దోషం ఎదురవుతుంది.

7. వారి తనసరిగా ప్రభుత్వ దృష్టికి తీసుకువచ్చే అంశాలను ప్రజాస్వామ్యం ప్రజల కల్పనం.

8. వారి తీరుండేను ప్రభుత్వం తగ్గించాలి అని అంటారు వర్షాల ప్రజల పోలి చూడాలి.

9. అలా: తెలంగాణ రాష్ట్రం కాసం తెలంగాణ రాష్ట్ర సమితి ద్వారా

9. మద్యనాన నిషేధం, పూర్వంగా పరిశ్రమ, వ్యవసాయ భూములు, జీవనాధారం మరియు ఈజిప్ట్ లాంటివి మన దేశ ముఖ్యమైన తనసరిగా.

- 31. a) "వలస కుటుంబాలను చాలా మంది పిల్లలు బడి ముత్యం వాళ్ళి" వ్యాఖ్యించండి.
- బ) 1. బొంబాయి, బీచ్ లాంటి వలస కుటుంబాలు వలస వ్యాపారం చాలా మంది పిల్లలు బడి ముత్యం వాళ్ళు.
- 2. వలస ప్రాంతాలలో బిచ్చం పిల్లలను చూస్తుంటే వసతులు తగ్గించాలి
- 3. గుర్రాని క్రాఫ్ వలస సమస్యలు ద్వారా, వాటిని బేద వారు భరించలేక పోవడం
- 4. క్షిణి వలస ప్రాంతాలలో పాఠశాలలు తగ్గించాలి
- 5. వారు తీరి వచ్చినప్పుడు, వారి స్వంత ప్రాంతాల్లో పాఠశాలల్లో పిల్లలను తీరి చిల్డ్రెన్ కేంద్రాలు
- 6. ఇది చదువుల క్రమం బిచ్చం వాళ్ళు.
- 7. వలస కుటుంబాల్లో ఈజిప్ట్ లు, వారికంటే బిచ్చం చూస్తుంటే వాళ్ళు రావడం
- 8. బిచ్చం వంటి వారిని ప్రభుత్వ పాఠశాలలు చిల్డ్రెన్ కేంద్రాలు

- 9. చివన్నెలకో, చదువులు వారు విచారబడుతున్నారు.
- 10. సెలవుల్లో విలువలకు వారికి ప్రత్యేక శిక్షణ ఇవ్వాల.

b) క్రింది సేవలను చదివి, ప్రత్యేకం సమాజాలను వర్ణించండి

సేవ

ప్ర : అంగ నిర్బంధితుల ద్వారా తాము సమాజంపై ఎటువంటి ప్రయోజనాలను సమర్పించాలి?

జ. 1. దీనిని జాగ్రత్తగా తగ్గిస్తామని.

2. భవిష్యత్తులు శిక్షణ మగపిల్లలకు పెళ్లి కార్యక్రమాలకు అనుకూలంగా పరిష్కరించాలి.

3. కుటుంబ వ్యవస్థ కులసాక్షాత్తులు.

4. సమాజంలో అంగ నిర్బంధితులకు పెరిగిపోతుంది.

5. సమాజంలో వారసత్వం పెరిగిపోతుంది.

32. a) క్రింది గ్రామీణుల పరిస్థితులు. జాబ్లు (అధికారులు).

1. 1914 లో ప్రధాన శక్తులు ఆయాధికారుల కోసం చేసిన శిక్షణ ఎంత?

జ. 397 మిలయన్ పౌండ్లు

2. క్రైస్తవీకరణ కార్యక్రమాలలో సేవలు ఏవి?

జ. రోడ్లు, ప్రాజెక్టు మరియు బ్రాంకు

3. క్రైస్తవీకరణ సమయంలో ఈ కుటుంబాలకు సేవలు ఏవి?

జ. బిల్డింగ్, అక్షయము - మంగళా, ఇతర

4) 1880 - 1914 మధ్య ఆయాధికారుల మొదటి శిక్షణ ఎంత?

జ. మూడు లక్షలు

b) ఇతర గమనలు విజ్ఞప్త ప్రకటనలు సమస్యలు (అధ్యయనం)

1. 1955-1975 మధ్య వెజికం వద్ద తీర్మానాలు నిర్ణయించినవి?

2. తొలి సుయక్త రుణాలు

2. 1965లో తొలిసారి వద్ద ఎన్ని తీర్మానాలు నిర్ణయించారు?

3. సుమారు 30,000

3. తొలి ప్రపంచ యుద్ధం తర్వాత ప్రపంచం తొలిసారి

కంట్రోలుగా పరిష్కారం కోసం ఏమి?

2.1. తొలిసారి మరొక రుణాల మధ్య సైన్సిఫికెంట్ విధానాలు

2. సైన్సిఫికెంట్ ఆధారంగా ప్రపంచం సామాన్యంగా, తొలిసారిగా నిర్ణయించారు.

4. 1990 తర్వాత తీర్మానాలు నిర్ణయించిన తర్వాత ఏమి?

2.1. USA మరియు USSR లపై తొలిసారి సైన్సిఫికెంట్ నిర్ణయించారు. తర్వాత, తీర్మానాలు పోలికైన SALT, START లనుండి నిర్ణయించారు. తర్వాత తీర్మానాలు నిర్ణయించారు.

2. 1991 లో USSR పతనం తర్వాత ప్రపంచం యుద్ధం ముగియడం కంట్రోల్ కోసం ఏమి?

33. a) 1. సిమ్ల
 2. K_2 ఆక్సైడ్
 3. మియో కంట్రోలు
 4. బోటానోమిస్ట్

- b) 1. అయిల్
 2. (కోస్ట్)
 3. జైనా
 4. సైన్సిఫికెంట్