

సమయం: 3:00 గం.

గరిష్ట మార్కులు: 100.

- నిబంధనలు:-
- 1) సమాధానములు రాయడానికి 3:00 గంటలు, అదనంగా ప్రశ్నాపత్రం చదువడానికి 15 ని. కేటాయించబడింది.
  - 2) ప్రశ్నా పత్రంలో నాలుగు సెక్షన్స్ ఉన్నాయి.
  - 3) సెక్షన్ - IV లో కొంతగత ఎంపిక ఉంటుంది.
  - 4) అన్ని ప్రశ్నలకు సమాధానములు ప్రత్యేక బుక్‌లెట్‌లో రాయాలి.

సెక్షన్ - I

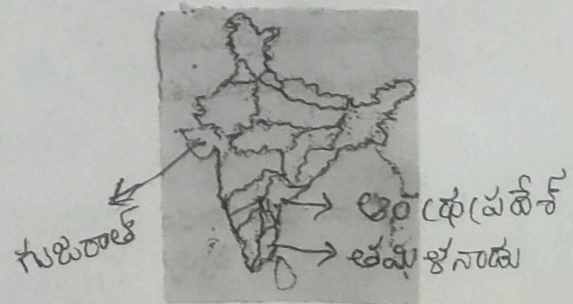
సూచనలు:-

- 1) ఈ సెక్షన్లో ఏదైనా ప్రశ్నకు ఒకటి కంటే ఎక్కువసార్లు సమాధానము రాస్తే మొదట రాసిన సమాధానం మాత్రమే పరిగణనలోకి తీసుకోబడుతుంది.
  - 2) అన్ని ప్రశ్నలకు సమాధానములు వ్రాయుము. 12x1=12
  - 3) ప్రతి ప్రశ్నకు ఒక మార్కు
1. ఈ క్రిందివాటిలో ద్విపక్షపాది నది కానిది ఏది.  
1) కృష్ణ 2) గోదావరి 3) తుంగభద్ర 4) రావి
  2. హిమాలయ శ్రేణులు మూడు శ్రేణులుగా విభజింపబడినవి.  
1) హిమాద్రి 2) హిమాలయ్ 3) \_\_\_\_\_ ?
  3. ఈ క్రింది నివాస ప్రాంతాలను క్రింది స్థాయి నుండి పైకి అమర్చండి.  
మహానగరం, ఆవాస ప్రాంతం, రెవెన్యూ గ్రామం, మెట్రో పాలిటన్ నగరం
  4. ఈ క్రింది సమాచారం చదివి ఖాళీని పూరించుము.  
1948 లో భారతదేశం పాకిస్థాన్ తో కాశ్మీర్ విషయంలోను, 1962 లో చైనాతో టిబెట్ విషయంలో యుద్ధాలు చేసింది. ఈ యుద్ధాలకు భారతదేశం సన్నద్ధం కాకపోవడంతో ప్రాణనష్టం బాగా ఎక్కువగా జరిగింది. -----  
ప్రతి-భారతదేశం చైనాతో యుద్ధానికి కారణం \_\_\_\_\_

5. ఈ క్రిందివాటిలో పర్యావరణ సంబంధం లేనిది.  
1) నర్మదా బచావ్ ఆందోళన  
2) చివ్కొ ఉద్యమం  
3) పౌరహక్కుల ఉద్యమం.

6. క్రింద ఇచ్చిన బడిన బారతదేశ పటం ఆధారంగా క్రింది ప్రశ్నకు సమాధానము వ్రాయుము.

ప్రశ్న:- ఆకువ బరువున్న పిల్లలు అధికంగా ఉన్న రాష్ట్రాన్ని గుర్తించండి.



7. డాంబింగ్ పుడరేవు ఈ దేశంలో కలదు

- 1) ఆటన్ 2) నెదర్లాండ్స్ 3) పోర్టోగల్ 4) శ్రీలంక

8. ఈ క్రింది వాటిలో మొదటి ప్రపంచ యుద్ధంలో సంబంధం లేని దానిని గుర్తించండి.


- 1) రహస్య కూటములు 2) సామ్రాజ్య వాదం  
3) దురహంకార పూరిత జాతీయతావాదం 4) USSR వర్షాలు

9. మొదటి జతలో సంబంధం ఆధారంగా రెండవ జతను గుర్తించండి.

అమెరికా : అత్యున్న పాలన

భారతదేశం : ?

10



ప్రశ్న :- పశ్చిమ బెంగాల్ దేశానికి ఆంధ్రప్రదేశ్ రాష్ట్రానికి మొదటి కార్యనిర్వహణ ముఖ్యమంత్రి. అతని పేరేమిటి?

11. అష్టగా ఉన్న జతను గుర్తించండి.

- 1) "సాధించు తేదా మరణించు" : మహాత్మా గాంధీ  
2) గ్రేట్ హాలూ : ఇందిరా గాంధీ  
3) ఢిల్లీ ఛాల : బహదూర్ లాల్ సేనా  
4) జై బివాన్ - జై కిసాన్ : లాల్ బహదూర్ శాస్త్రి.

12. పట్టిక ఆధారంగా ఈ క్రింది ప్రశ్నకు జవాబు రాయండి.

1920	నానాజోతి సమితి
1945	ఉక్కురాజ్య సమితి

ప్రశ్న: మొదటి ప్రపంచ యుద్ధానంతరం ఏర్పడిన ఆంతర్జాతీయ సంస్థ ఏది?

సెక్షను: II

సూచనలు: 1) అన్ని ప్రశ్నలకు జవాబులు రాయండి.

2) ప్రతి ప్రశ్నకు రెండు మార్కులు 8x2=16

13. అక్షరాలు వేడివి అనగానేమి?

14. భారతదేశపు ముఖ్యమైన భౌగోళిక స్వరూపాలేమి?

15. పట్టణోదారణ సమస్యల నివారణకు రెండు సూచనలు ఇవ్వండి?

16. ఈ క్రింద ఇవ్వబడిన ప్రపంచ పటం ఆధారంగా ప్రశ్నలకు జవాబులు రాయండి.

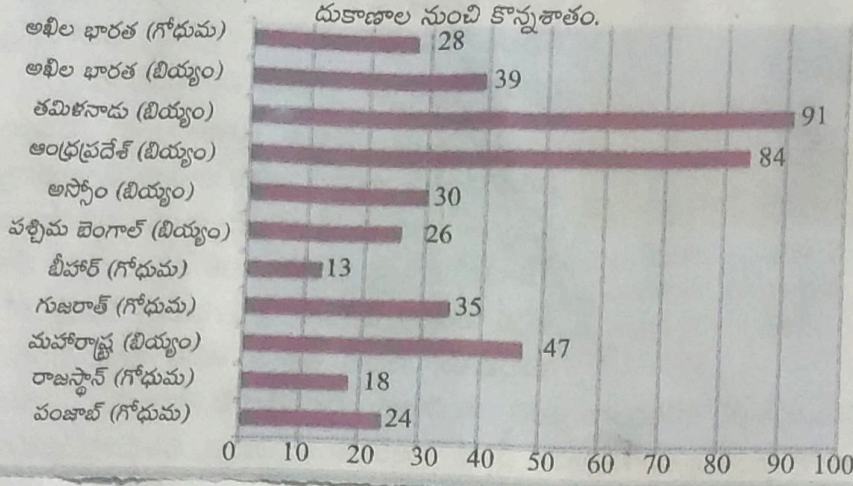
a) ఏదేశం అత్యధిక సంఖ్యలో భారతీయ వలసకార్మికులను కలిగి ఉంది?

b) పైన ఇవ్వబడిన దేశాలలో భారతీయులు అధికంగా ఉన్న దేశాన్ని దేశం ఉంది గుర్తించండి?

(Note: ప్రపంచ పటం అనువాద ఈ ప్రశ్నలు రాయండి)



రేఖాచిత్ర పటం 4 : 2009-10లో బియ్యం, గోధుమల కొనుగోళ్ళలో రేషను

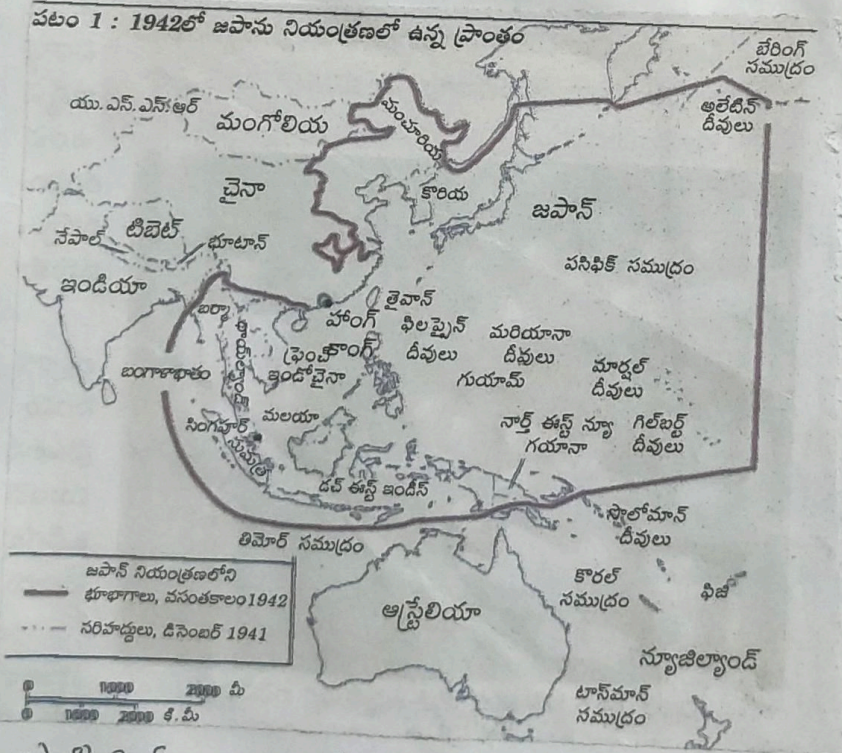


4

- రేషన్ షాపుల ద్వారా ఎంతశాతం మంది బియ్యం కొనుగోలు చేస్తున్నారు?
- ప్రజా పంపిణీ వ్యవస్థల పనితీరు ఏ రెండు రాష్ట్రాలలో మెరుగ్గా ఉంది?
- చౌక ధరల దుకాణాల ద్వారా ఆహార ధాన్యాలను కొనిస్తున్న ప్రతీక ఈశాన్య రాష్ట్రం ఏది?
- పై గ్రాఫు దేని గురించి తెలియజేస్తున్నది?

- మే 4 ఉచ్చమం గురించి రాయండి?
- రెండు ప్రపంచ యుద్ధాల కారణాలను క్లుప్తంగా రాయండి? ప్రపంచంలో ఏ దేశాల్లో దేశాలలో ఈ నాటికే ఈ ఆంశాలు ఏమైనా ఉన్నాయి?
- జపాన్ నియంత్రణలో ఉన్న ప్రాంతాలకు చెందిన మృత్యువు ఆధారంగా ఈ క్రింది ప్రశ్నలకు జవాబులు రాయండి?

పటం 1 : 1942లో జపాన్ నియంత్రణలో ఉన్న ప్రాంతం



- జపాన్ నియంత్రణలో ఉన్న భూభాగాలను ఏది?
- పటంలో చూపబడిన ఖండాలు ఏవి?
- పటంలో చూపబడిన ఖండాలలో ఏ ఖండం జపాన్ నియంత్రణలో వేరు?
- భారతదేశం జపాన్ నియంత్రణలో ఉందా?

28 దేశాన్ని ఏకంగా ఉంచడంలో సర్దార్ వల్లభాయ్ పటేల్ పాత్రను ప్రశంసించండి?

సెక్షను: IV

సూచనలు: 1) అన్ని ప్రశ్నలకు బహుళ రాయము.

5x8=40

5

29. అల్ల ఉపాధి 2) ప్రతి ప్రశ్నకు 8 మార్కులు  
 ఒక్కొక్క ఉదాహరణతో వివరించండి? పట్టణ, గ్రామీణ ప్రాంతాల నుండి

వాణిజ్య, పెట్టుబడి విధానాలను సరళీకరించడం వలన ప్రపంచీకరణ ప్రక్రియకు మేలు ఎలా జరిగింది?

31. భారత ప్రజాస్వామ్యాన్ని అల్లవసర పరిస్థితి ఏవిధంగా వెనక్కు తోసుకుపోయింది? (లేదా)

సాంఘిక ప్రజల జీవితాలను దేశవిభజన ఏవిధంగా ప్రభావితం చేసింది? విభజన తరువాత జరిగిన వలసలకు రాజకీయ ప్రతిస్పందనలు ఏమిటి?

32. ఈ క్రింది సమాచారం ఆధారంగా ప్రశ్నలకు బహుళ రాయండి.

కులం  
య?

1980ల నుంచి సంకీర్ణ ప్రభుత్వాలు కొన్ని రాజకీయ పార్టీలు

అధికారంలో ఉన్న పార్టీలు	యునైటెడ్ ఫ్రంట్	అధికారంలో ఉన్న పార్టీలు	సెషన్ల డెమోక్రాటిక్ అలయన్స్	అధికారంలో ఉన్న పార్టీలు
<p>సెషన్ల ఫ్రంట్ 1989-1990</p> <p>జెడి, డిఎంకె, ఎజిపి, టిడిపి జమ్మూ &amp; కాశ్మీర్ నేషనల్ కాన్ఫరెన్స్ (జెకె ఎన్సి)</p>	<p>1996-1998</p> <p>జెకెఎన్సి, టిడిపి, టిఎంసి, సిపిఐ, ఎజిపి, డిఎంకె, ఎంజిపి,</p>	<p>1998-2004</p> <p>జెడియూ, ఎన్ఎడి, ఎఐఎడిఎంకె, జెకెఎన్సి, తృణమూల్ కాంగ్రెస్, బిజూ జనతా దళ్, శివసేన</p>		
<p>మద్దతునిచ్చిన పార్టీలు</p> <p>సిపిఎం, సిపిఐ, బిజెపి</p>	<p>మద్దతునిచ్చిన పార్టీలు</p> <p>సిపిఎం</p>	<p>మద్దతునిచ్చిన పార్టీలు</p> <p>టిడిపి</p>		
<p>ఇది ప్రభుత్వంలో భాగస్వాములైన లేదా మద్దతు ఇచ్చిన అన్ని రాజకీయ పార్టీల జాబితా కాదు. తరచు, అయిదుగురు లేదా అంతకంటే ఎక్కువ ఎంపీలు ఉన్న పార్టీలను పేర్కొన్నాయి.</p>				

- a) పైన ఇవ్వబడిన సమాచారం ద్వారా తెలుపుతున్నది?
- b) NDA ను విస్తరించే రాయండి? సంకీర్ణ ప్రభుత్వం అనగానేమి?
- c) నేషనల్ ఫ్రంట్ లో భాగస్వామ్యం కలిగిన పార్టీల పేర్లు రాయండి?
- d) యునైటెడ్ ఫ్రంట్ ప్రభుత్వం ఎంతకాలం ఆధికారంలో ఉంది? (లేదా)

ఈ క్రింది పట్టిక ఆధారంగా ప్రశ్నలకు బహుళ రాయండి

1951	
1952, 1957, 1962	మొదటి పంచవర్ష ప్రణాళిక ప్రారంభం
1956	భారత జాతీయ పార్టీ విజయం
1962	గర్వాల పునర్విభజన చట్టం
1965, 1971	భారత్-చైనా మధ్య యుద్ధం
1977	భారత్-పాక్ మధ్య యుద్ధాలు.
	మొరార్జీ దేశాయ్ భారత ప్రధాని కావడం

- a) మూడు సాధారణ ఎన్నికలలో ఏ పార్టీ ఆధిపత్యం కొనసాగింది?
- b) రా(వై)ల పునర్విభజన కమిటీ సభ్యుల పేర్లు రాయండి?
- c) మొదటి పంచవర్ష ప్రణాళిక కాలమేది? దీని ప్రాధాన్యత ఏమిటి?
- d) బంగ్లాదేశ్ విముక్తి కోసం భారతదేశం పాకిస్తాన్ లో ఏ సంఘాల యుద్ధం చేసింది.

33 ఈ క్రింది అంశాలను భారతదేశ పటంలో గుర్తించండి?

- 1) మూడు సముద్రాల కలసేవలు
- 2) హైదరాబాదు సంస్థానానికి రాజధాని ఏది?
- 3) ఆత్మధిక బనారా కలగిన రాష్ట్రం
- 4) ఆత్మధిక అక్షరాస్యుల శాతం కలగిన రాష్ట్రం -

(లేదా)

- 1) కృష్ణనది 2) తమిళనాడు రాజధాని 3) బ్రహ్మపుత్రనది 4) సింధునది.

33 ఈ క్రింది అంశాలను ప్రపంచ పటంలో గుర్తించండి.

- 1) నానాజాతి సమితి ప్రధానకార్యాలయం - ఈ దేశంలో ఉండేది
- 2) మంచూ బ్రీఫింగ్ ల పాలనలో ఉండిన దేశం
- 3) ఇటలీ చుట్టూ ఆవరించి ఉన్న సముద్రం
- 4) ఆస్ట్రేలియా సమీపాన గల ద్వీపపు దేశం

(లేదా)

- 1) భూటాన్
- 2) ఆస్ట్రేలియా
- 3) ఆఫ్ఘనిస్థాన్
- 4) వెరిస్

బ్లూ ప్రింట్

బ్లూ ప్రింట్

క్ర.సం.	విద్యా ప్రమాణాలు	లక్ష్యాత్మక ప్రశ్నలు	ఆతిస్థిల్ల సమాధాన ప్రశ్నలు	స్వల్ప సమాధాన ప్రశ్నలు	వ్యాసరూప ప్రశ్నలు	ప్రశ్నల సంఖ్య	మార్కులు
1	విషయ అవగాహన						40
2	పాఠ్యాంశాన్ని చదివి, అర్థంచేసుకుని వ్యాఖ్యానించుట						10
3	సమాచార నైపుణ్యం						15
4	సమకాలీన అంశాలపై అవగాహన - ప్రతిస్పందన						10
5	పట నైపుణ్యం						15
6	ప్రశంస - సున్నితత్వం						10
		12	8	8	5	33	100

12x1=12      8x2=16      8x4=32      8x5=40

30. ఈ క్రింది వేరా చదివి మీ అభిప్రాయాలను తెల్పండి?

వి) భారతదేశంలో ప్రతి 100 మంది బాలరకు 103 మంది బాలకలు వుంటున్నారు. అయితే 0-5 సం||ల లోపు మరణస్థుస్సే పిల్లలలో బాలకలే అత్యధికం. జనాభాలో కూడా స్త్రీల కన్నా పురుషుల సంఖ్య అధికంగా ఉంది.

(వేదా)

31) కేంద్ర రాష్ట్ర ప్రభుత్వాల 1/3 వ వంతు ఆహార ధాన్యాలను వ్యవసాయదారులనుండి విక్రయించి వారిని వివిధ పథకాలకోరకు పంపిణీ చేస్తారు. ఈ ఆహార ధాన్యాలను ప్రజాపంపిణీ వ్యవస్థ ద్వారా ప్రజలకు పంపిణీ చేస్తారు.

సెక్షను : I

Answers (సమాధానములు) మూడింటివూ ప్రశ్నాపత్రం-5

- 1 రావి
- 2 శివాలక్
- 3 ఆవాస (పాంతుం, తెవెస్కూ గ్రామం, మెట్రో పాలటన్ నగరం, మహానగరం
- 4 మౌరవాకుల ఉద్యమం ట్రబెట్ సమస్య
- 5 మౌర వాకుల ఉద్యమం
- 6 గుజరాత్
- 7 పోలండ్
- 8 USSR (సోవియట్ యూనియన్) ఏర్పాటు
- 9 పార్లమెంటరీ విధానం
- 10 ఆంధ్ర ప్రదేశ్ రాష్ట్రానికి వెంట్నెయిటరీ కాంగ్రెసేతర ముఖ్యమంత్రి- నందమూరి తారక రామారావు
- 11 ఢిల్లీ చలం - జవహర్ లాల్ నెహ్రూ. (వాస్తవానికి ఈ నినాదం బిచ్చినవారు - సుభాష్ చంద్రబోస్)
- 12 మొదటి ప్రపంచ యుద్ధానంతరం 'నానాజాతి సమితి' ఏర్పాటుయింది.

సెక్షను : II

- 13 రుతుపవనాలు ఆరోగ్యమనం చెంది సమయం అధిక ఉష్ణోగ్రత అర్జుణత కారణంగా చాలా ఉక్కుపోతగా ఉంటుంది. దీనిని 'అక్సీబరు వేడిమి' అంటారు.
- 14 భారత దేశపు ప్రధాన భౌగోళిక స్వరూపాలు:  
 1) హిమాలయాలు 2) గంగా-సింధు మైదానాలు 3) ద్వీపకల్ప వేతభూమి.  
 4) తేర మైదానాలు 5) థార్ ఎడారి 6) దోవులు
- 15 ప్రభుత్వం అందించవలసిన కనీస సదుపాయాలు స్వచ్ఛమైన (తాగునీరు, విద్యుత్, వైద్యం పారిశుధ్య సదుపాయాలు.
- 16 a) యునైటెడ్ ఆరబ్ ఎమిరేట్స్  
 b) గ్రేట్ బ్రిటన్
- 17 ఆస్ట్రేలియా- హంగరీ సామ్రాజ్యం, టర్కీ సామ్రాజ్యం, రష్యా సామ్రాజ్యం మరియు జర్మన్ సామ్రాజ్యం
- 18 మొదటి సాధారణ ఎన్నికలు (1952)  
 జనతాపార్టీ అధికారంలోకి రావడం (1977)  
 ఆర్థిక సరళీకరణ (1991)  
 బాబ్రీ మసీదు కూల్చవేత (1992)
- 19 a) హిట్లర్  
 b) నాల్జ్ బాబీ.

- 20 1) వారుగు దేశాలలో శాంతిని కొనసాగించాల
- 2) పరస్పరం సహకారం ఉండాల
- 3) ప దేశము, వారుగు దేశపు ఉండర్లత విషయాలలో జోక్యం చేసుకోరాదు.
- 4) చర్చల ద్వారా సమస్యలు పరిష్కరించుకోవాల.

సెక్షను : III

- 21 1) గంగా- సింధు మైదానాలు గంగ, సింధు, బ్రహ్మపుత్ర వంటి జీవనదుల వల్ల ఏర్పడ్డాయి.
- 2) ఈ మైదానాలు పెండ్ల మృతకలచే ఏర్పడ్డాయి. ఇవి చాలా సారవంతమైనవి.
- 3) భారతదేశం ప్రధానంగా వ్యవసాయ దేశం అయినందున చాలామంది వ్యవసాయదారులు, వ్యవసాయ కూలీలు ఇక్కడ స్థిరపడ్డారు.
- 4) బొడ్డు, నవాసాలు నిర్మించడంనికి అనుకూలంగా ఉండి ఖర్చు కూడా తక్కువ అవుతుంది.
- 5) సారవంతమైన మైదానాలు కావడం వల్ల అనేక రకాల పంటలకు ఇవి అనుకూలం
- 6) జీవనదులు అందించే నీటి పారుదల సదుపాయాల వల్ల మరాఠీ పంటలు పండిస్తారు.
- 7) ఈ మైదానాలు వ్యవసాయ కూలీలకు సంపత్తరం పొందవునా ఉపాధి కల్పిస్తున్నాయి.
- 8) పై కారణాల బట్టి గంగా-సింధు మైదానాలు ఆధుక జనసాంద్రత కలిగి ఉన్నాయి.

- 22 1) మంచి ఆరోగ్యాన్ని, కాలక్ష్య రహిత వాతావరణాన్ని ఉల్లూల కోసలేము.
- 2) ఉదాహరణకు తలసరి ఆదాయం పంజాబ్ ముందుజిల్ ఉన్న విద్యను అందించడం
- 3) హిమాచల్ ప్రదేశ్ తలసరి ఆదాయం పంజాబ్ కన్నా తక్కువ, కానీ పాఠశాల విద్యలో చాలా ముందుజిల్ ఉంది.
- 4) శాంతిని, ప్రజాస్వామ్యాన్ని కొనలేము.

- 23 1) బాలకలే భవిత్యుత్తు వారిని ఎదుగనిద్దాం, చదివిద్దాం
- 2) తల్ల దండ్రులు కూలకలు అబ్బాయి- అమ్మాయిలను సమానుగా చూడాల.
- 3) మహిళలు సాంప్రదాయ పనులకే పరిమితం కాకుండా సాంప్రదాయోతర వృత్తులు చేపట్టేందుకు ప్రోత్సహిద్దాం.
- 4) మహిళలు చేసే పనులను గౌరవిద్దాం
- 5) సమాన పనికి సమాన వేతనం ఇవ్వాల

- 24 a) 29%
- b) తమిళనాడు, ఆంధ్ర ప్రదేశ్
- c) ఆసాం
- d) రేషను దుకాణాల నుంచి బయ్యం, గోధుమలు కొనున్నవారి శాతాన్ని తెలుపుతుంది.

- 25 1) మే 4 ఉద్యమం 1919 మే 4 న బీజింగ్లో ప్రారంభమైంది
- 2) ఈ ఉద్యమం వల్లెయిల్ల సంధికి నిరసగా జరిగింది
- 3) గృహి అన్ని తరాలవారికి జీవం పోసింది.
- 4) పాత సాంప్రదాయాలపై దాడిచేసి, ఆధునిక విజ్ఞానం, ప్రజాస్వామ్యం, సామ్యవాదం ద్వారా చైనాను పరిరక్షించాలని పిలుపునిచ్చారు.
- 5) విదేశీయులను దేశం నుండి తరిమివేయాలని ఉద్యమకారులు పిలుపునిచ్చారు.
- 6) అసమానతలను తొలగించడం, పేదరికాన్ని తగ్గించడం ఈ ఉద్యమం యొక్క ముఖ్య ఉద్దేశం



26

- 1) దురహంతారపూరిత జలశీయతావాదం, సా(మాస్ట్రి వాదం, సైనికవాదం, రహస్య కూటుమలు మొదటి ప్రపంచ యుద్ధానికి గల దీర్ఘ కాలక కారణాలు.
- 2) ఆస్ట్రీయా యువరాజు ఫ్రెడినాండ్ దంపతులను సెర్బియాకు చెందిన ఉన్మాది హత్యచేయడం మొదటి ప్రపంచ యుద్ధానికి తక్షణ కారణం
- 3) మొదటి ప్రపంచ యుద్ధానికి కారణమైన దీర్ఘ కాలక సమస్యలలో పాటుగా మరొకటి అదనపు కారణాలు రెండవ ప్రపంచ యుద్ధానికి కారణమయ్యాయి.  
ఉదా:- వల్షెయిల్ సంధి పురతులు.
- 4) 1939 సెప్టెంబరు 1 న బర్లీన్ పోలెండ్ పై దాడిచేయడం రెండవ ప్రపంచ యుద్ధానికి తక్షణ కారణం

27

- a) హంకాంగ్
- b) ఆసియా, ఆస్ట్రేలియా
- c) ఆస్ట్రేలియా
- d) భారతదేశం బహిష్ నియంత్రణలలో వేరు.

28

- 1) భారతదేశం స్వతంత్రానంతరం 550 స్వదేశీ సంస్థానాలు వారి భవిష్యత్తు నిర్ణయం తీసుకునే స్వేచ్ఛ కల్పించారు.
- 2) సాధారణ ప్రజలు స్వదేశీ సంస్థానాలు కొనసాగడానికి భారతదేశంలో విలీనం కావాలని ఉర్జుమం ప్రారంభించారు.
- 3) కేంద్ర హంకాంగ్ మంత్ర సర్దార్ వల్లభాయ్ పటేల్ డెల్టాంత దాదాపు అన్ని స్వదేశీ సంస్థానాలు దేశంలో విలీనమయ్యాయి.
- 4) జనాఘట్, కాశ్మీరు హైదరాబాదు సంస్థానాలు మంత్ర భారతదేశంలో విలీనం కావడాన్ని తిరస్కరించారు.
- 5) ఆలస్యంగా జనాగఢ్, కాశ్మీర్లు భారతదేశంలో విలీనం అయ్యాయి.
- 6) హైదరాబాదు నిజాం హైదరాబాదు ని ప్రత్యేక దేశంగా ఏర్పాటు చేయాల లేదా పాకిస్థాన్లో కలపాలని కోరుకున్నాడు.
- 7) సర్దార్ వల్లభాయ్ పటేల్ ఆదేశాలలో 1956 జనవరి 1 నా పోలీసు బర్హద్వారా 1949 బహుళి హైదరాబాదు భారతదేశంలో విలీనమయ్యింది.
- 8) ఈ విధంగా దేశాన్ని సమైక్య పరచడంలో సర్దార్ వల్లభాయ్ పటేల్ మాత్ర ప్రకంసనీయమైనది.

సెక్షను : IV

29

- 1) ప్రచ్ఛన్న నిరుద్యోగం అనేది అల్ప ఉపాధిలో ఒక భాగం
  - 2) ప్రచ్ఛన్న నిరుద్యోగంలో ప్రజలు ఉపాధి పొందినట్లు కనబడతారు. వాస్తవానికి వారు నిరుద్యోగులు.
  - 3) దీనినే కనబడని నిరుద్యోగం అని కూడా అంటారు.
  - 4) ఈ పరిస్థితులలో అవసరమైన దానికన్నా ఎక్కువమంది ఈ పనులలో నిమగ్నమై ఉంటారు.
- గ్రామీణ ప్రాంతం:- సాధారణంగా ప్రచ్ఛన్న నిరుద్యోగం వ్యవసాయ రంగానికి కనబడుతుంది.  
ఉదా:- ఒక కుటుంబంలో ఒకే సాగుభూమిని 6 గురు సాగు చేస్తుంటారు. అయితే అందులో ముగ్గురిని తప్పించినా ఉత్పత్తిలో ఏవిధమైన మార్పు ఉండదు.

పట్టణ (పాఠం) - పట్టణాలలో ప్రభుత్వ నిరుద్యోగం సేవారంగాల కనబడుతుంది. (10)

ఉదా:- ఒక కుటుంబంలో కుటుంబ సభ్యులందరి ఒక చిన్న వ్యాపారంలో నిమగ్నమై ఉంటారు. ఈ వ్యాపారాన్ని ఆకూచ మందిలో నిర్వహించే వచ్చు.

- 29
- 1) సరళీకరణ అనగా విదేశీవాణిజ్యం మరియు పెట్టుబడులపై నిన్ను అడ్డంకులను తొలగించడం
  - 2) సరళీకరణ ద్వారా వస్తువులు, సేవలను సులభంగా ఎగుమతి చేయవచ్చు, దిగుమతి కూడా చేసుకోవచ్చు.
  - 3) దేశీయ కంపెనీలు విదేశాలలో కూడా తమ కంపెనీలను ఏర్పాటుచేస్తాయి.
  - 4) దేశీయ, విదేశీ కంపెనీల అనుసంధానాన్ని 'ప్రసారీకరణ' అంటారు.
  - 5) ప్రపంచీకరణ ప్రక్రియ దేశాల మధ్య సంబంధాలను వేగవంతం చేస్తుంది.
  - 6) ప్రపంచీకరణ ద్వారా దేశాల మధ్య సంస్కృతి సాంప్రదాయాలు విస్తరిస్తాయి.

- 30
- 1) జనగణన ప్రకారం ప్రతి 100 మంది అబ్బాయిలకు 103 మంది అమ్మాయిలు పుడుతున్నారు.
  - 2) అయితే 0-5 సంవత్సరాలలోపు మరణించే పిల్లలలో బాలకల సంఖ్య ఎక్కువగా ఉంది.
  - 3) పై కారణం చేత 2011 జనగణన ప్రకారం ప్రే పురుష నిష్పత్తి 940:1000

అంగ నిష్పత్తి తగ్గడానికి కారణాలు:-

- 1) చాలామంది తమ మనోహారానికి మగ సంతానం కావాలని వాంఛించడం
- 2) నిరక్షరాస్యులైన తల్లిదండ్రులకు బాలకల ప్రాధాన్యత గురించి అవగాహన లేకపోవడం
- 3) సంపన్న కుటుంబాలు, విద్యావంతులు సైతం మగ సంతానానికి ప్రాధాన్యత ఇవ్వడం.
- 4) పురుషాధిక్యత, మరియు పేదరికం కూడా అల్ప అంగనిష్పత్తికి కారణాలే.

- 30
- 1) ఆహార భద్రత అనేది కేంద్ర, రాష్ట్ర ప్రభుత్వాల ఉమ్మడి బాధ్యత.
  - 2) రోషను షాపుల ద్వారా ఆకూచ ఆదాయ వర్గాలవారికి ఆహారాన్ని సరఫరా చేస్తారు.

3) X అల్ప ఆదాయ వర్గాలవారికి ప్రజాపంపిణీ వ్యవస్థ ఆహార భద్రతను కల్పిస్తుంది. X

- 3) ప్రజా పంపిణీ వ్యవస్థ అల్ప ఆదాయ వర్గాల వారికి ఆహారభద్రత కల్పిస్తుంది.
- 4) ప్రజలకు ఆహారాన్ని అందించడానికి రోషను షాపులు చాలా ముఖ్యమైనవి.
- 5) ఆంధ్ర ప్రదేశ్, ఆమిళనాడు రాష్ట్రాలలో ప్రజాపంపిణీ వ్యవస్థ చక్కగా నిర్వహించబడుతుంది.
- 6) అయితే పక్కత ప్రాంతాలలో ప్రజాపంపిణీ వ్యవస్థ చక్కగా నిర్వహించబడుతుంది.
- 7) ఇప్పటికీ ఆధికశాతం మంది పోషకాహార లోపంతో బాధపడుతున్నారు.
- 8) ఏమైనప్పటికీ ప్రజలకు ఆహార భద్రత కల్పించడంలో ప్రజాపంపిణీ వ్యవస్థ కీలకమైనది.

- 31
- 1) క్రీ.శ. 1975 జూన్ 25న భారత ప్రధాని శ్రీమతి ఇందిరాగాంధీ 'అల్పవసర పరిస్థితి' విధించారు.

2) అల్పవసర పరిస్థితి సమయంలో ప్రజలకు ఇవ్వబడిన ప్రాథమిక వస్తువుల రద్దు చేయబడతాయి.

- 3) పతాకలపై ఆంక్షలు విధించబడతాయి.
- 4) సాధారణ ఎన్నికలు వాయిదా పడ్డాయి.
- 5) ప్రతిపక్ష పార్టీ నాయకులను అరెస్టు చేశారు.
- 6) అభివృద్ధి కార్యక్రమాలు రద్దు చేయబడ్డాయి.
- 7) పై కారణాల చేత భారత ప్రజాస్వామ్యాన్ని అల్పవసర పరిస్థితి వేనకిరీ తీసుకుపోయింది అని చెప్పవచ్చు.

31  
29

(11)

- 1) ప్రత్యేక దేశం పోకిస్టాన్ ఏర్పాటు ప్రజలలో బాధాకరమైన పరిస్థితులకు కారణమైంది.
- 2) కొత్తగా ఏర్పాటు చేసిన సరిహద్దులలో ఒకవైపు అత్యధికంగా హిందువులు ఉంటే మరొక వైపు ముస్లింలు ఉన్నారు. వారు అభద్రతకు కుర్రులు అనన్నారు.
- 3) సుమారు 9 కోట్ల 50 లక్షల మంది స్థాన భ్రంశం చెందారు.
- 4) 2 నుండి 5 లక్షల మంది మరణించారు.
- 5) మతపరమైన ఘర్షణలు వెలగాయి.
- 6) గాంధీజీ, నెహ్రూల చారవత్ కాంగ్రెస్ పార్టీ 'అల్ల సంఖ్యకుల హక్కులపై తీర్మానం' చేసింది.

7) ఆ తీర్మానం "భారతదేశం వివిధ మతాల, జాతుల నిలయం" అని చెప్పింది

32  
ఎ

- 8) చాలామంది బంధువులు, స్నేహితులు స్థానభ్రంశం చెందడం ప్రజలను చాలా బాధపెట్టింది.
- a) పై గ్రామ వివిధ సంకీర్ణ ప్రభుత్వాలను గురించి తెలుపుతున్నది. అవి 1989, 1986, 1998 లలో ఏర్పడ్డాయి.
- b) జాతీయ ప్రజాస్వామ్య కుటుంబం.
- c) జనతాదళ్, డి.ఎం.కె, టి.డి.పి, ఎ.బి.పి, జమ్మూ కాశ్మీర్ నేషనల్ కాన్ఫెడరేషన్
- d) యునైటెడ్ ఫ్రంట్ ప్రభుత్వ కాలపరిమితి 2 సంవత్సరాలు (1976-1978)

32  
ఆ

- 1) 3 సాధారణ ఎన్నికలలోను భారత జాతీయ కాంగ్రెసు ఆధిపత్యం వహించింది
- 2) డాక్టర్ల పునర్నిభజన కమిటీ సభ్యులు - ఘజల్ అలీ, K.M. ఫణిక్కర్, H.N. కుంజు
- 3) 1951-56, ఈ ప్రణాళిక ప్రధాన లక్ష్యం వ్యవసాయ రంగవృద్ధి.
- 4) 1971.

